


# Рабочая тетрадь



УЧЕНИКА \_\_\_\_\_

КЛАСС \_\_\_\_\_

## часть 1

## Содержание

*число*


Урок 1	_____
Урок 2	_____
Урок 3	_____
Урок 4	_____
Урок 5	_____
Урок 6	_____
Урок 7	_____
Урок 8	_____
Урок 9	_____
Урок 10	_____
Урок 11	_____
Урок 12	_____
Урок 13	_____
Урок 14	_____
Урок 15	_____
Урок 16	_____

# УРОК 1

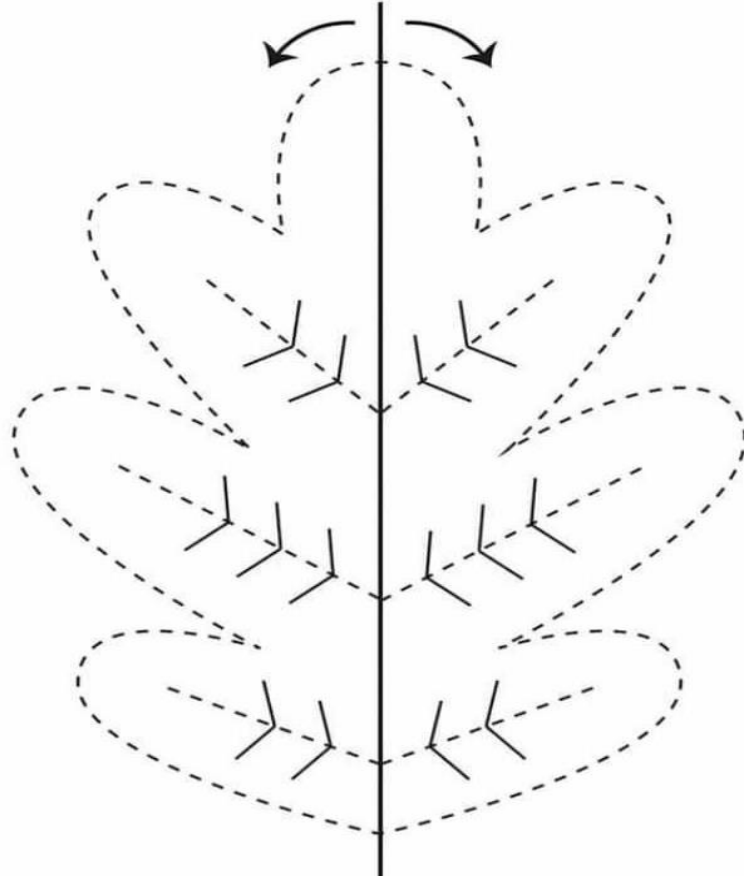
Разминка – головоломка



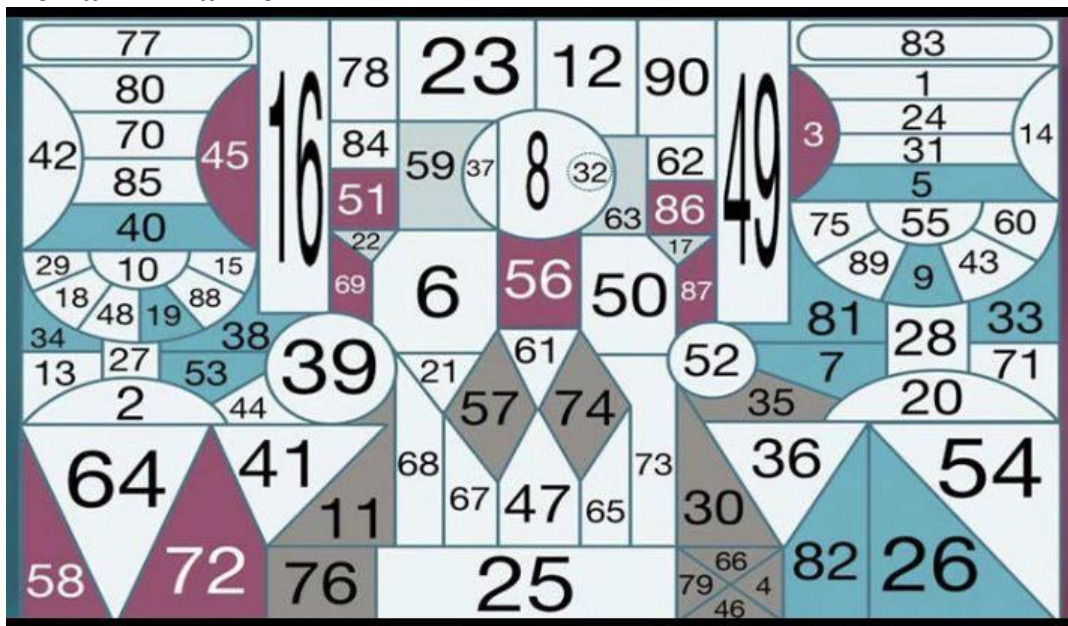
Пальчиковая гимнастика



Рисование двумя руками



Задание на внимание



## Задания на мышление

ОНЕБ \_\_\_\_\_  
ТУСЛ \_\_\_\_\_  
ЕОРМ \_\_\_\_\_  
АШКА \_\_\_\_\_

ОНКИ \_\_\_\_\_  
ЗЫКЯ \_\_\_\_\_  
ЯАЦЗ \_\_\_\_\_  
ОНЕС \_\_\_\_\_

Длинный, высокий, низкий, светлый.  
Храбрый, отважный, трусливый, смелый.  
Темный, светлый, яркий, оранжевый.  
Твердый, каменный, прочный, тяжелый.  
Кислый, холодный, сладкий, горький.

## Математические навыки

10+13	15+4
12+11	22+8
18+6	32+3
14+12	55+5
13+3	24+8

## Задания на память: зрительная, слуховая.

5	8	1
3	2	7
4	9	0


Б	М	А
Я	К	И
Т	С	У


## Нейрогимнастика

Назови фигуру и выполни движение

- - скажи «квадрат» и стукни правым кулаком по столу
- △ - скажи «треугольник» и стукни левым кулаком по столу
- - скажи «круг» и хлопни в ладоши

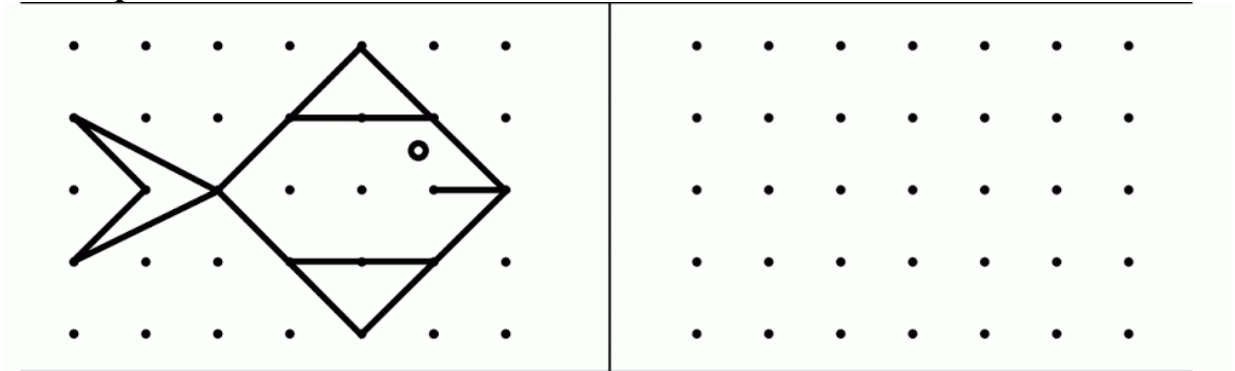
The grid contains the following shapes in each row:  
Row 1: Circle, Triangle, Square, Square, Circle, Circle, Square  
Row 2: Square, Triangle, Triangle, Square, Triangle, Circle, Circle  
Row 3: Triangle, Circle, Triangle, Triangle, Square, Circle, Triangle

## Задачки на сообразительность

1. По двору ходят куры. У всех кур Петя насчитал 6 ног. Сколько кур?
2. Из бочки взяли 2 раза по 2 полных ведра воды. Сколько вёдер воды взяли?
3. В корзине сидят котята. Всего 3 пары ушек. Сколько котят в корзине?
4. В пакете лежат красные и жёлтые яблоки. Из пакета взяли 4 красных и 5 жёлтых яблок, и пакет опустел. Сколько яблок было в пакете?

5. Росли 5 берез. На каждой березе по 5 больших веток. На каждой ветке — по 5 яблок. Сколько всего яблок ?
6. Бревно распилили на 3 части. Сколько сделали распилов?
7. На дереве сидело 2 сороки, 3 воробья и 2 белки. Вдруг два воробья вспорхнули и улетели. Сколько птиц осталось на дереве?

**Скопировать по точкам**



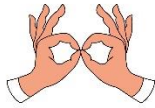
*Дополнительное задание.*

# УРОК 16


Разминка – головоломка




Пальчиковая гимнастика



Рисование двумя руками



Задание на внимание



## Задания на мышление

### ньюсеО

аНстулапи ньсео. инД илста оркоче. ёсВ емизнилось уркгом.  
лжетеПоли тсилья ан деревьяхе. В ялпох, егд адневно летшеслие  
стугые локосья, репеть стоуп: лебх сиколис и везули. Кохозники  
водольны. роУжай орхоший.

	А	Б	В	Г
1	А	Б	Ф	В
2	Н	К	У	Т
3	Р	О	Я	У
4	С	Ч	Г	Ш

- 1) Б2 А3 В2 В4 .....
- 2) В4 Б3 А3 А1 .....
- 3) Б2 Б3 В1 Г2 А1 .....
- 4) Б3 Г1 А3 А1 В4 .....
- 5) Б3 Б2 А3 В2 В4 А1 .....

## Математические навыки

2, 4, 6, 8.....

3, 6, 9, 12.....

20, 18, 16, 14.....

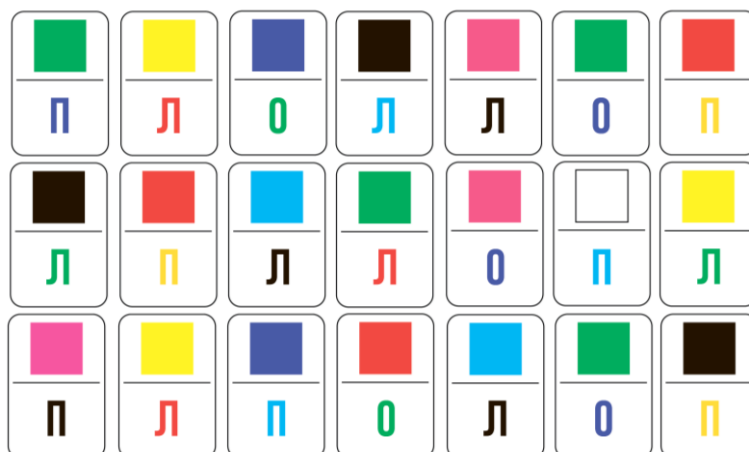
1, 3, 6, 10.....

10, 15, 20, 25.....

## Задания на память: зрительная, слуховая.



## Нейрогимнастика




## Задачи на сообразительность

1. У фермера было 17 гусей, и все, кроме девяти, улетели. Сколько гусей осталось у фермера?

2. На столе лежит 1 апельсин. Его разрезали на 2 части, сколько апельсинов лежит на столе?
3. Посчитать, сколько людей в следующей строке: ты да я, да мы с тобой
4. У двух братьев по одной сестре. Сколько всего детей в семье?
5. В поле работали 5 тракторов. 2 трактора сломались и остановились. Сколько тракторов в поле?
6. У фермера было 17 гусей, и все, кроме девяти, улетели. Сколько гусей осталось у фермера?
7. Подумай и скажи кто громче рычит: тигр или буйвол?
8. Тройка лошадей в час пробежала 24 км. Сколько километров пробежала каждая лошадь?
9. На каких деревьях вьют свои гнезда страусы?
10. На столе лежит 2 яблока и 4 груши. Сколько всего овощей лежит на столе?

**Дорисуй вторую половинку**



*Дополнительное задание.*