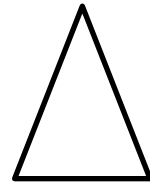
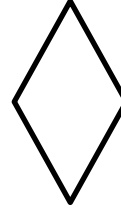



1 вариант

Фамилия _____

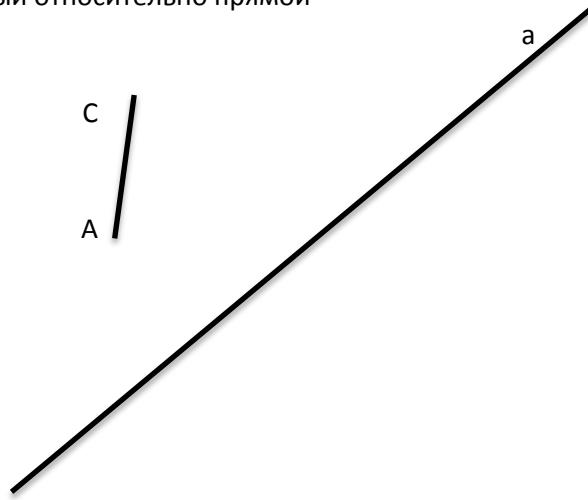
Класс _____

1. Провести ось симметрии, где это возможно

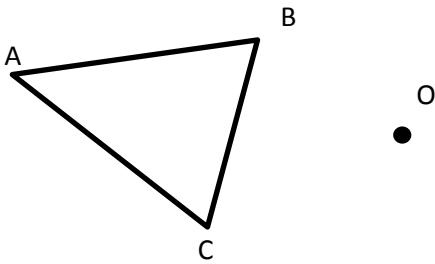


А Б В Г Ф Е


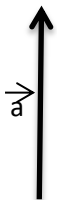
2. Построить отрезок, симметричный относительно прямой



3. Выполнить поворот треугольника вокруг точки O против часовой стрелки на 120°



4. Выполнить параллельный перенос отрезка на вектор

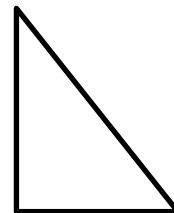



2 вариант

Фамилия _____

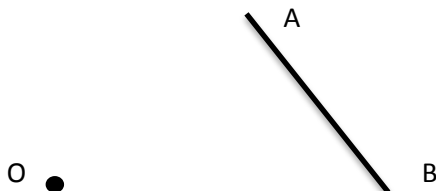
Класс _____

1. Провести ось симметрии, где это возможно

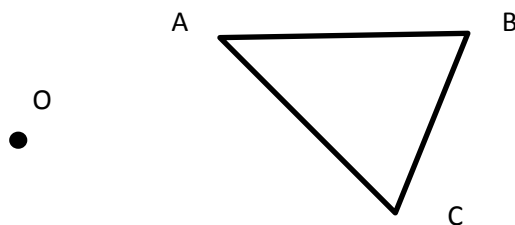


Ж З И К П Ъ

2. Построить отрезок, симметричный относительно точки



3. Выполнить поворот треугольника вокруг точки O по часовой стрелке на 80°



4. Выполнить параллельный перенос отрезка на вектор

